

Задания для участников 6-х классов

Нисрукция по выполнению работ

Время на выполнение работы – 45 минут.
Максимальное количество баллов – 100.

Уважаемый участник!

При выполнении работы внимательно читайте текст заданий. Содержание ответа вписывайте в отведённые поля, запись ведите четко и разборчиво.

За каждый правильный ответ Вы можете получить определенное число баллов, но не выше указанной максимальной оценки. Судья набранных баллов за все решенные вопросы – итог Вашей работы.

Задания считаются выполненными, если Вы вовремя сдали их членам жюри.
Желаем успеха!

Шифр И-6-05

Задание 1. Верны ли следующие утверждения («да» – «нет») ? Ответы внесите в таблицу.







- 1.1. Фараоны в Древнем Египте считались сыновьями луны.
- 1.2. Самым могущественным царем Вавилонского царства был Хаммурапи.
- 1.3. Первыми стали применять железные орудия.
- 1.4. Гробница императора Линь Шихуанди находится на территории современного Египта.
- 1.5. В рамках древнерусской колонизации Причерноморья были построены города на территории современной Российской Федерации.
- 1.6. Наставником и воспитателем Александра Македонского был философ Диген.
- 1.7. Зарождение древнерусского театра связывают с празднествами в честь бога Диониса.
- 1.8. Автором «Клидаля» является Гиппократ.
- 1.9. На вратах Олимпийских игр в Древней Греции были запрещены войны.
- 1.10. Фраза «жребий брошен» принадлежит Юлию Цезарю и относится к его походу на Рим.

Ответ:

1.1	1.2	1.3	1.4	1.5	1.6	1.7	1.8	1.9	1.10
нет	да	нет	да	—	да	—	нет	да	да

Критерии оценивания: за каждый верный ответ - 2 балла, всего - 10 баллов.

Задание 2. Перед Вами фрагменты шести полотен художника Стенана Бакаловича, часто вдохновлявшегося сюжетами из древности. Соотнесите фрагмент каждой картины с утверждением об этой картине. Ответы внесите в таблицу.

	
1	2
	
3	4
	
5	6

- А. На картине изображен писец фараона.
- Б. На картине изображен поэт Катюлл.
- В. На картине изображено одно из Семи чудес света.
- Г. На картине изображена достопримечательность, которая носит имя одного из римских императоров.
- Д. На картине показана приданная знаменитого римского благотворителя, чье имя стало нарицательным.
- Е. На картине показано исполнение религиозного ритуала.

Ответ:

А	Б	В	Г	Д	Е
3	—	—	—	—	6.

Критерии оценивания: за каждый верный ответ - 2 балла, всего - 12 баллов.

Handwritten signature or mark.

Задание 3. Происхождение многих из современных технологий можно проследить в древнем Китае. Прочитайте фрагменты текста. О каких изобретениях древних китайцев идет речь? Заполните пропуски. Ответ внесите в таблицу.

«3.1 Самолет является одним из наиболее широко используемых и необходимых материалов. Была изобретена впервые в древнем Китае в период правления династии Хань. До второго века до нашей эры китайцы пользовались очень дорогими и не всегда качественными средствами для письма, такими как полосы бамбука, свитки из шелка, закаленные глиняные таблички, деревянные таблички и т.д. Первый прототип 3.2 парашюта как считается, появился также во времена династии Хань, когда китайцы стали использовать магнитный железняк, ориентированный на север-юг. Правда, использовался он не для навигации, а для гадания. Еле в середине 1 тысячелетия до н. э. китайцы использовали для фейерверков удивительное изобретение – 3.3 порох. Китайские художники открыли секрет 3.4 бумаги, которым покрывали зонтики, деревянные изделия и даже обувь, делая их водонепроницаемыми. Во многие страны отгвалялись караваны, груженные гладкой тончайшей тканью, прославившей Древний Китай – 3.5 шелк».

3.1	
3.2	
3.3	
3.4	
3.5	

Ответ:

Критерии оценивания: за каждый верный ответ - 2 балла, всего - 10 баллов.

Задание 4. Много крылатых выражений пришло к нам из истории и мифологии народов Древнего мира. Соотнесите выражение и название страны или региона, которые связаны с появлением этого выражения. Ответ внесите в таблицу.

4.1. Зарвать талант в землю	А. Древнее Двуречье
4.2. Эврика!	Б. Древний Египет
4.3. Смещение языков	В. Древняя Палестина
4.4. Ухо мальчишка – на его спине!	Г. Древний Китай
4.5. Правитель должен быть правителем, отец – отцом, сын – сыном.	Д. Древняя Греция

4.1	4.2	4.3	4.4	4.5

Ответ:

Критерии оценивания: за каждый верный ответ - 2 балла, всего - 10 баллов.

Задание 5. Перед Вами текст по истории раннего Средневековья. В нём пропущены некоторые слова и даты. Заполните каждый пропуск, выбрав один из трёх вариантов.

В (1. 476) году вождь варваров сверг последнего императора Западной Римской империи (2. Августула). С этой даты началась история Средних веков. На бывшей территории Западной Римской империи стали образовываться варварские королевства, одним из которых было королевство франков. Его основателем был (3. Хлодвиг) из династии (4. Меровингов). В период его правления были записаны старинные судебные обычаи франков, создан свод законов – (5. Эвразская Правда). Однако в VII в. королевская власть ослабла, и фактически правителями государства стали королевские управляющие – майордомы. В 732 г. майордом Карл (6. Безакус) одержал победу над арабами в битве (7. при Пуатье).

1. 476, 486, 496
2. Августа, Рема, Ромула
3. Теодорих, Хильдеберт, Хлодвиг
4. Капетингов, Каролингов, Меровингов
5. Вестготская, Салическая, Фризская
6. Великий, Лысый, Марселл
7. на Каталунских полях, при Гастингсе, при Пуатье

Ответ:

5.1	478
5.2	августа
5.3	хлодвиг
5.4	меровингов
5.5	фризская
5.6	великий
5.7	при пуатье

Критерии оценивания: за каждый верный ответ - 2 балла, всего - 14 баллов.

Задание 6. Греция – колыбель не только цивилизации, но и мифологии. Всё здесь наполнено мифами и легендами, и один из ее основных городов – не исключение. Все верховные боги захотели стать его покровителями, но после общего совета большинство из них отказались от своего намерения. И только два божества продолжили спорить. Решили, город будет назван именем того, кто преподнесет ему лучший подарок.

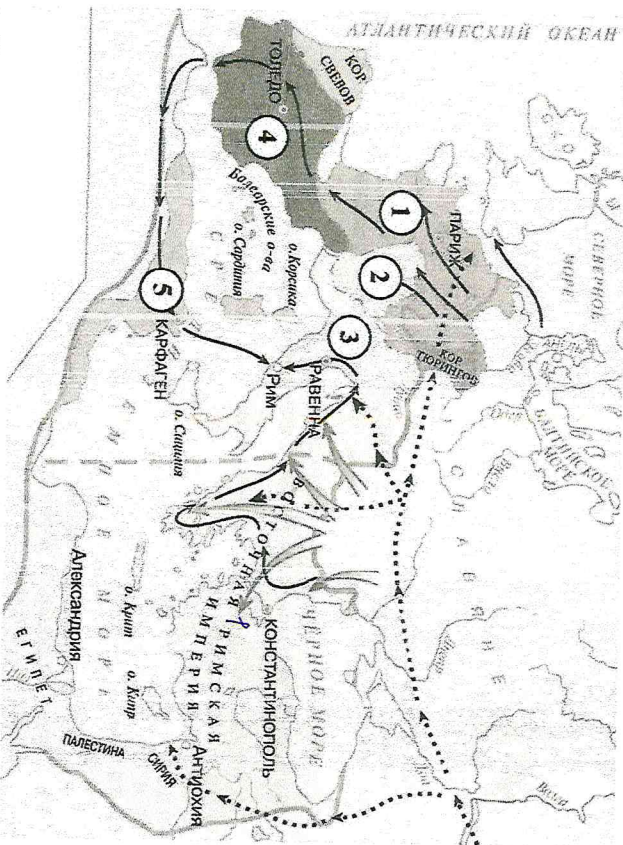
1. О каком городе идет речь?
2. Какие боги участвовали в споре?
3. Кто выиграл, дал свое имя городу и почему?

Ответ:

6.1	
6.2	Зевс.
6.3	

Критерии оценивания: за каждый верный ответ - 2 балла, всего - 6 баллов.

Задание 7. Внимательно рассмотрите карту и выберите верные утверждения из предложенных.



1. На карте обозначено государство, за которым в исторической науке закрепилось название Византия.
2. На карте обозначен город, в котором было заключено соглашение о разделе империи Карла Великого.
3. На карте обозначен город, который был разрушен в результате противостояния с Римской республикой.
4. На карте обозначен остров, где согласно мифу располагался лабиринт, в котором жил Минотавр.
5. Сплошной линией на карте обозначены границы империи Александрийскомакедонского.

Ответ:

7.1	7.2	7.3	7.4	7.5
Бонифациус	Карфаген	Сиракузы		

Критерии оценивания: за каждый верный ответ - 2 балла, всего - 10 баллов.

Задание 8. Соотнесите имена правителей с историческим фактом.





А) Александр Македонский	1. Организация Библиотеки глиняных книг
Б) Дашурубанагал	2. Создание древнейших законов
В) Константин	3. Строительство самой длинной стены
Г) Октавиан Август	4. Создание новой религии - Буддизма
Д) Соломон	5. Строительство храма бога Яхве в Иерусалиме
Е) Хаммурапи	6. Самые крупные завоевания земель соседней Египта
Ж) Царевич Гутама	7. Военный поход в Индию
З) Цинь Шихуан	8. Разрешение христианам открыто молиться
И) Юлий Цезарь	9. Установление империи
К) Тутмос	10. Завхват египетской власти в Риме

Ответ:

А	Б	В	Г	Д	Е	Ж	З	И	К
---	---	---	---	---	---	---	---	---	---

Критерии оценивания: за каждый верный ответ - 1 балл, всего - 10 баллов.

Задание 9. [6 баллов] Перед вами памятники, объединенные единой тематикой. Укажите название темы этих памятников. Какой из памятников находится в Сурасте? Укажите цифру.



Ответ:

1	4
2	

Критерии оценивания: за каждый верный ответ - 3 балла, всего - 6 баллов.

Задание 10. Неотъемлемая часть ремесла историка - расшифровка рукописных памятников прошлых веков. Перед Вами фрагменты русского летописного свода с мужскими и женскими именами. Напишите эти имена в современных русскоязычных вариантах их написания.

1 2 3
ГРИГОРИЯ ЕЛЕНА ПАСИЯЛЕН

4 5 6
КОМПАНИИНА МАРКИ АННА

Ответ:

1. ИРИНА 25
2. ЕЛЕНА 25
3. _____
4. КОНСТАНТИН 25
5. АНДРЕЙ 26
6. САННА 25

105

Критерии оценивания: за каждый верный ответ - 2 балла, всего - 12 баллов.
Спасибо за участие!

Задания для участников 6-х классов

Инструкция по выполнению работ

Время на выполнение работы – 45 минут.
Максимальное количество баллов – 100.

Важнейший участник!

При выполнении работы внимательно читайте текст заданий. Содержание ответа
выписывайте в отведённые поля, записи ведите чётко и разборчиво.

За каждый правильный ответ Вы можете получить определённое количество баллов, но не выше указанной максимальной оценки. Сумма набранных баллов за все решённые
вопросы – итог Вашей работы.

Задания считаются выполненными, если Вы вовремя сдали их членам жюри

Желаем успехов!

Шифр И-6-07

Задание 1. Верны ли следующие утверждения («да») – «нет»? Ответы внесите в таблицу.







- 1.1. Фараоны в Древнем Египте считались сыновьями луны.
- 1.2. Самым могущественным царем Вавилонского царства был Хаммурапи.
- 1.3. Первыми стали применять железные орудия.
- 1.4. Тронница императора Цинь Шихуанди находится на территории современного Египта.
- 1.5. В рамках древнегреческой колонизации Тричерноморья были построены города на территории современной Российской Федерации.
- 1.6. Наставником и воспитателем Александра Македонского был философ Дикотен.
- 1.7. Зарождение древнегреческого театра связывают с празднествами в честь бога Диониса.
- 1.8. Автором «Илиады» является Гиппократ.
- 1.9. На время Олимпийских игр в Древней Греции были запрещены войны.
- 1.10. Фраза «жребий брошен» принадлежит Юлию Цезарю и относится к его походу на Рим.

Ответ:

1.1	1.2	1.3	1.4	1.5	1.6	1.7	1.8	1.9	1.10
нет	да	да	да	да	нет	да	нет	да	да

Критерии оценивания: за каждый верный ответ – 2 балла, всего – 10 баллов.

Задание 2. Перед Вами фрагменты шести полотен художника Степана Баклаевича, часто влюбленного в своего сюжетами из Древности. Соотнесите фрагмент каждой картины с утверждением об этой картине. Ответы внесите в таблицу.

	
1	2
	
3	4
	
5	6

- А. На картине изображен писец фараона.
- Б. На картине изображен поэт Катулл.
- В. На картине изображено одно из Семи чудес света.
- Г. На картине изображена достопримечательность, которая носит имя одного из римских императоров.
- Д. На картине показана привычная знаменитого римского благотворителя, чьё имя стало нарицательным.
- Е. На картине показано исполнение религиозного ритуала.

Ответ:

А	Б	В	Г	Д	Е
5	3	2	4	1	6

Критерии оценивания: за каждый верный ответ – 2 балла, всего – 12 баллов.

65.

Задание 3. Происхождение многих из современных технологий можно проследить в древнем Китае. Прочитайте фрагменты текста. О каких изобретениях древних китайцев идет речь? Заполните пропуски. Ответ внесите в таблицу.

«3.1 Бумажная является одним из наиболее широко используемых и необходимых материалов, была изобретена впервые в древнем Китае в период правления династии Хань. До второго века до нашей эры китайцы пользовались очень дорогими и не всегда качественными средствами для письма, такими как полосы бамбука, свитки из шелка, закаленные глиняные таблички, деревянные таблички и т.д. Первый прототип 3.2 Компас как считается, появился также во времена династии Хань, когда китайцы стали использовать магнитный железняк, ориентированный на север-юг. Правда, использовался он не для навигации, а для гадания. Еще в середине I тысячелетия до н. э. китайцы использовали для фейерверков удивительное изобретение – 3.3 порох. Китайские художники открыли секрет 3.4 лака, которым покрывали зонтики, деревянные изделия и даже обувь, делаю их водонепроницаемыми. Во многие страны отправлялись караваны, груженные гладкой тончайшей тканью, прославившей Древний Китай – 3.5 шелк».

Ответ:

3.1	<u>бумажная</u>
3.2	<u>компас</u>
3.3	<u>порох</u>
3.4	<u>лак</u>
3.5	<u>шелк</u>

Критерии оценивания: за каждый верный ответ - 2 балла, всего - 10 баллов.

Задание 4. Много крылатых выражений пришло к нам из истории и мифологии народов Древнего мира. Соотнесите выражение и название страны или региона, которые связаны с появлением этого выражения. Ответ внесите в таблицу.

4.1. Зарять талант в землю	А. Древнее Двуречье
4.2. Эврика!	Б. Древний Египет
4.3. Смещение языков	В. Древняя Палестина
4.4. Ухо мальчишка – на его спине!	Г. Древний Китай
4.5. Правитель должен быть правителем, отец – отцом, сын – сыном.	Д. Древняя Греция

Ответ:

4.1	4.2	4.3	4.4	4.5
<u>в</u>	<u>г</u>	<u>д</u>	<u>б</u>	<u>а</u>

Критерии оценивания: за каждый верный ответ - 2 балла, всего - 10 баллов.

Задание 5. Перед Вами текст по истории раннего Средневековья. В нём пропущены некоторые слова и даты. Заполните каждый пропуск, выбрав один из трёх вариантов.

В (1. _____) году вождь варваров сверг последнего императора Западной Римской империи (2. _____) Августа. С этой даты началась история Средних веков. На бывшей территории Западной Римской империи стали образовываться варварские королевства, одним из которых было королевство франков. Его основателем был (3. _____) из династии (4. _____). В период его правления были записаны старинные судебные обычаи франков, создан свод законов – (5. _____) Правда. Однако в VII в. королевская власть ослабла, и фактическими правителями государства стали королевские управляющие – майордомы. В 732 г. майордом Карл (6. _____) одержал победу над арабами в битве (7. _____).

1. 476, 486, 496

2. Августа, Рема, Ромула

3. Теодорих, Хильдеберт, Хлодвиг

4. Капетингов, Каролингов, Меровингов

5. Вестготская, Салическая, Фризская

6. Великий, Львовый, Маргелл

7. на Кагалаунских полях, при Гастинге, при Пуатье

Ответ:

5.1	<u>476</u>
5.2	<u>Ромула</u>
5.3	<u>Хлодвиг</u>
5.4	<u>Капетингов</u>
5.5	<u>Вестготская.</u>
5.6	<u>Великий</u>
5.7	<u>при Пуатье</u>

Критерии оценивания: за каждый верный ответ - 2 балла, всего - 14 баллов.

Задание 6. Греция – колыбель не только цивилизации, но и мифологии. Всё здесь наполнено мифами и легендами, и один из ее основных городов – не исключение. Все верховные боги захотели стать его покровителями, но после общего совета большинство из них отказались от своего намерения. И только два божества продолжили спорить. Решили, город будет назван именем того, кто преподнесет ему лучший подарок.

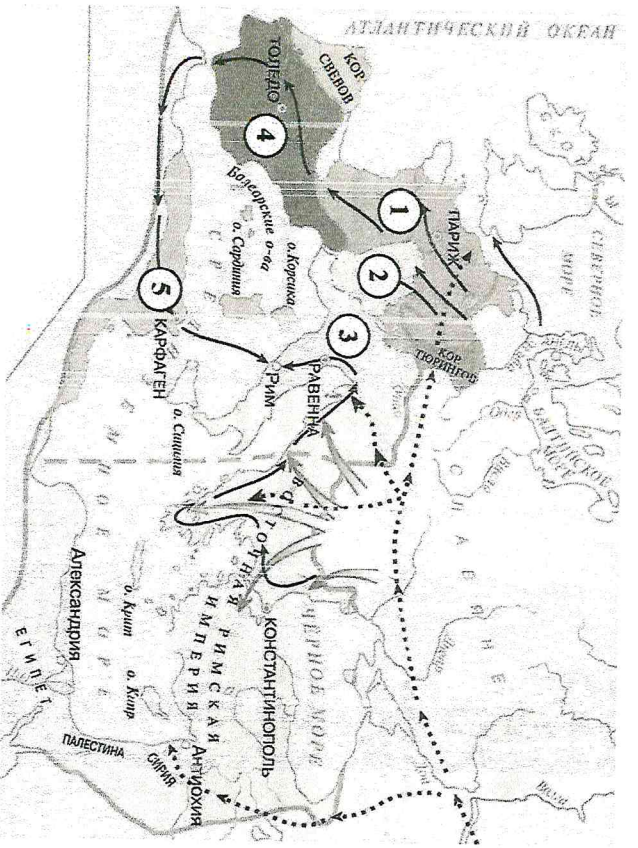
- О каком городе идет речь?
- Какие боги участвовали в споре?
- Кто выиграл, даю свое имя городу и почему?

Ответ:

6.1	<u>Афины</u>
6.2	<u>Зевс, Афина, Арес</u>
6.3	<u>Афина</u>

Критерии оценивания: за каждый верный ответ - 2 балла, всего - 6 баллов.

Задание 7. Внимательно рассмотрите карту и выберите верные утверждения из предложенных.



1. На карте обозначено государство, за которым в исторической науке закрепилось название Византия.
2. На карте обозначен город, в котором было заключено соглашение о разделе империи Карла Великого.
3. На карте обозначен город, который был разрушен в результате противоборства с Римской республикой.
4. На карте обозначен остров, где согласно мифу разотлавался лабиринт, в котором жил Минотавр.
5. Шпильной линией на карте обозначены границы империи Александрийско-Македонского.

Ответ:

7.1	7.2	7.3	7.4	7.5
ит	ра	ра	ит	ит

25

Критерии оценивания: за каждый верный ответ - 2 балла, всего - 10 баллов.

Задание 8. Соотнесите имена правителей с историческим фактом.





А) Александр Македонский	1. Организация Библикеки глиняных книг
Б) Дандурбинвалал	2. Создание древнейших законов
В) Константин	3. Строительство самой длинной стены
Г) Октавиан Август	4. Создание новой религии - буддизма
Д) Соломон	5. Строительство храма бога Яхве в Иерусалиме
Е) Хаммурапи	6. Самые крупные завоевания земель соседней Египта
Ж) Царевич Гутува	7. Военный поход в Индию
З) Цинь Шихуан	8. Разрешение христианизации открыто молиться
И) Юлий Цезарь	9. Угнетение империи
К) Тутмос	10. Завхват египетской власти в Риме

Ответ: 1 - - - - - + - - - - -

А	Б	В	Г	Д	Е	Ж	З	И	К
4	8	6	10	2	7	5	3	9	1

Критерии оценивания: за каждый верный ответ - 1 балл, всего - 10 баллов.

Задание 9. [6 баллов] Перед вами памятники, объединенные единой тематикой. Укажите название темы этих памятников. Какой из памятников находится в Сузуме? Укажите цифру.

	
1	2
	
3	4

Ответ:

1	Эти памятники посвящены войне и победе над франкскими войсками
2	Эти памятники посвящены войне и победе над

25

Критерии оценивания: за каждый верный ответ - 3 балла, всего - 6 баллов.

Задание 10. Неотъемлемая часть ремесла историка - расшифровка рукописных памятников прошлых веков. Перед Вами фрагменты русского летописного свода с мужскими и женскими именами. Напишите эти имена в современных русскоязычных вариантах их написания.

1 2 3
НИКИТА ЕЛЕНА ПАСИЛЕН

4 5 6
КОСТАШИННА МАРГА АЙНА

Ответ:

1. Никита 2.5
2. Елена 2.5
3. Косташинна 2.5
4. Марга 2.5
5. Айна 2.5
6. Айна 2.5

Критерии оценивания: за каждый верный ответ - 2 балла, всего - 12 баллов.
Спасибо за участие!